

No. 2 九州地方(都道府県名)

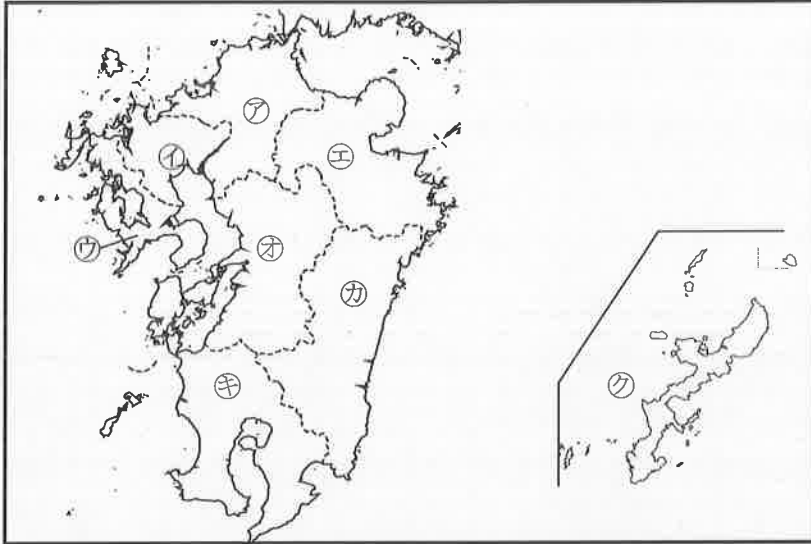
年 組

名前

/16問

次の地図を見て、㉠～㉡の県名と県庁所在地名をそれぞれ書きましょう。

地図



| | 県名 | 県庁所在地名 |
|---|----|--------|
| ㉠ | ① | ② |
| ① | ③ | ④ |
| ㉡ | ⑤ | ⑥ |
| ㉢ | ⑦ | ⑧ |
| ㉣ | ⑨ | ⑩ |
| ㉤ | ⑪ | ⑫ |
| ㉥ | ⑬ | ⑭ |
| ㉦ | ⑮ | ⑯ |

- ① 福岡県
- ② 福岡市
- ③ 佐賀県
- ④ 佐賀市
- ⑤ 長崎県
- ⑥ 長崎市
- ⑦ 大分県
- ⑧ 大分市
- ⑨ 熊本県
- ⑩ 熊本市
- ⑪ 宮崎県
- ⑫ 宮崎市
- ⑬ 鹿児島県
- ⑭ 鹿児島市
- ⑮ 沖縄県
- ⑯ 那覇市

九州地方は8県あり、県名と県庁所在地名が異なるのは、沖縄県だけだね。

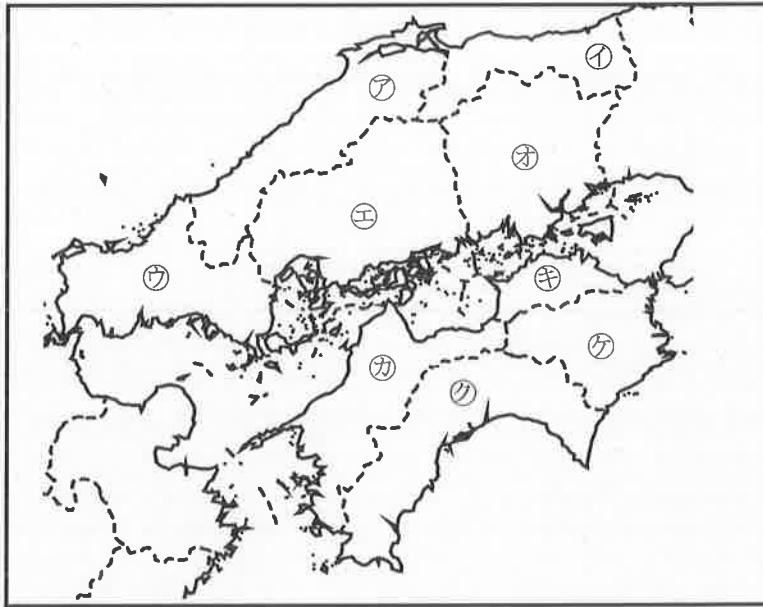


| | | |
|-------|--------------------|-----|
| No. 4 | 中国・四国地方 (都道府県名) | 年 組 |
| | | 名前 |

| |
|------|
| /18問 |
|------|

次の地図を見て、㉑～㉗の県名と県庁所在地名をそれぞれ書きましょう。

地図



| | 県名 | 県庁所在地名 |
|---|----|--------|
| ㉑ | ① | ② |
| ㉓ | ③ | ④ |
| ㉕ | ⑤ | ⑥ |
| ㉗ | ⑦ | ⑧ |
| ㉙ | ⑨ | ⑩ |
| ㉛ | ⑪ | ⑫ |
| ㉝ | ⑬ | ⑭ |
| ㉟ | ⑮ | ⑯ |
| ㊱ | ⑰ | ⑱ |

- ① 島根県
- ② 松江市
- ③ 鳥取県
- ④ 鳥取市
- ⑤ 山口県
- ⑥ 山口市
- ⑦ 広島県
- ⑧ 広島市
- ⑨ 岡山県
- ⑩ 岡山市
- ⑪ 愛媛県
- ⑫ 松山市
- ⑬ 香川県
- ⑭ 高松市
- ⑮ 高知県
- ⑯ 高知市
- ⑰ 徳島県
- ⑱ 徳島市

しゅうがくりょこう
修学旅行で行く県があるかな？

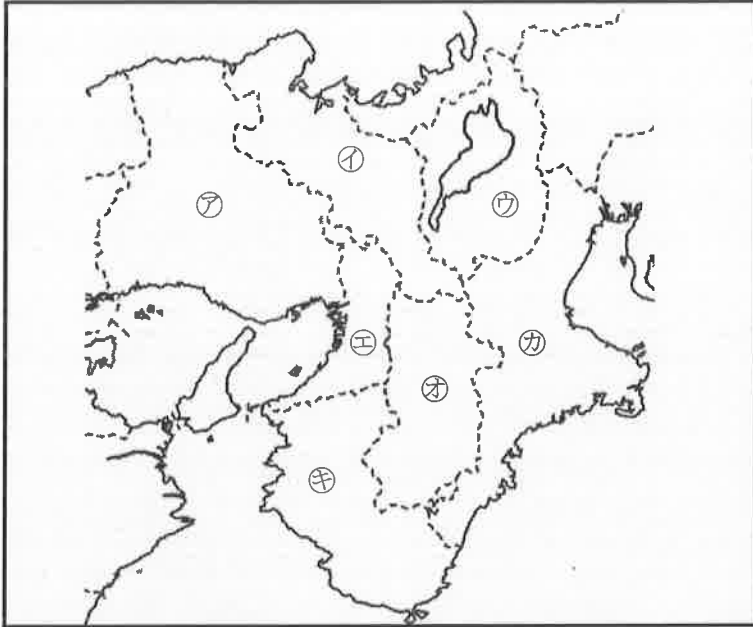


| | |
|-------------------|-----|
| No. 6 近畿地方(都道府県名) | 年 組 |
| | 名前 |

| |
|------|
| /14問 |
|------|

次の地図を見て、㉗～㉕の府県名と府県庁所在地名をそれぞれ書きましょう。

地図



| | 府県名 | 府県庁所在地名 |
|---|-----|---------|
| ㉗ | ① | ② |
| ㉘ | ③ | ④ |
| ㉙ | ⑤ | ⑥ |
| ㉚ | ⑦ | ⑧ |
| ㉛ | ⑨ | ⑩ |
| ㉜ | ⑪ | ⑫ |
| ㉝ | ⑬ | ⑭ |

【解答】

- ① 兵庫県
- ② 神戸市
- ③ 京都府
- ④ 京都市
- ⑤ 滋賀県
- ⑥ 大津市
- ⑦ 大阪府
- ⑧ 大阪市
- ⑨ 奈良県
- ⑩ 奈良市
- ⑪ 三重県
- ⑫ 津市
- ⑬ 和歌山県
- ⑭ 和歌山市

「府」がつく都道府県は、二つとも近畿地方にあるんだね。

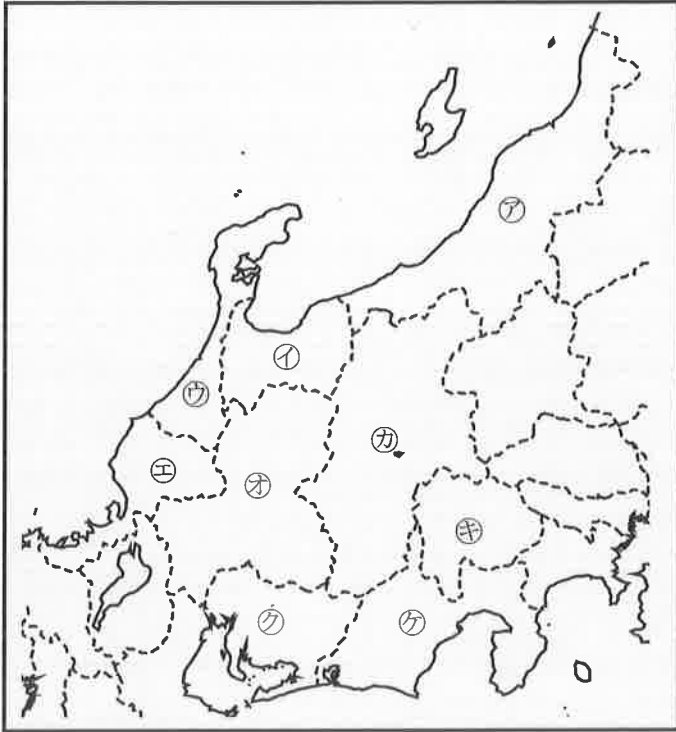


| | |
|-------------------|-----|
| No. 8 中部地方(都道府県名) | 年 組 |
| | 名前 |

| |
|--------|
| / 18 問 |
|--------|

次の地図を見て、㉠～㉧の県名と県庁所在地名をそれぞれ書きましょう。

地図



| | 県名 | 県庁所在地名 |
|---|----|--------|
| ㉠ | ① | ② |
| ㉡ | ③ | ④ |
| ㉢ | ⑤ | ⑥ |
| ㉣ | ⑦ | ⑧ |
| ㉤ | ⑨ | ⑩ |
| ㉥ | ⑪ | ⑫ |
| ㉦ | ⑬ | ⑭ |
| ㉧ | ⑮ | ⑯ |
| ㉨ | ⑰ | ⑱ |

- ① 新潟県
- ② 新潟市
- ③ 富山県
- ④ 富山市
- ⑤ 石川県
- ⑥ 金沢市
- ⑦ 福井県
- ⑧ 福井市
- ⑨ 岐阜県
- ⑩ 岐阜市
- ⑪ 長野県
- ⑫ 長野市
- ⑬ 山梨県
- ⑭ 甲府市
- ⑮ 愛知県
- ⑯ 名古屋市
- ⑰ 静岡県
- ⑱ 静岡市

中部地方には、海に面していない県が3県あるんだね。



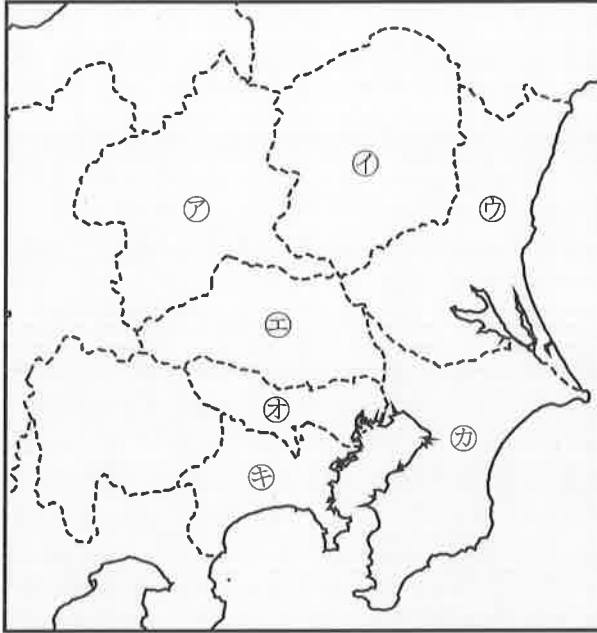
【解答】

| | |
|-------------------|-----|
| No.10 関東地方(都道府県名) | 年 組 |
| | 名前 |

| |
|------|
| /14問 |
|------|

次の地図を見て、㉑～㉕の都県名と都県庁所在地名をそれぞれ書きましょう。

地図



| | 都県名 | 都県庁所在地名 |
|---|-----|---------|
| ㉑ | ① | ② |
| ㉒ | ③ | ④ |
| ㉓ | ⑤ | ⑥ |
| ㉔ | ⑦ | ⑧ |
| ㉕ | ⑨ | ⑩ |
| | ⑪ | ⑫ |
| | ⑬ | ⑭ |

- ① 群馬県
- ② 前橋市
- ③ 栃木県
- ④ 宇都宮市
- ⑤ 茨城県
- ⑥ 水戸市
- ⑦ 埼玉県
- ⑧ さいたま市
- ⑨ 東京都
- ⑩ 東京(23区)
- ⑪ 千葉県
- ⑫ 千葉市
- ⑬ 神奈川県
- ⑭ 横浜市

関東地方には、県庁所在地名に「ひらがな」が使われている市があるね。



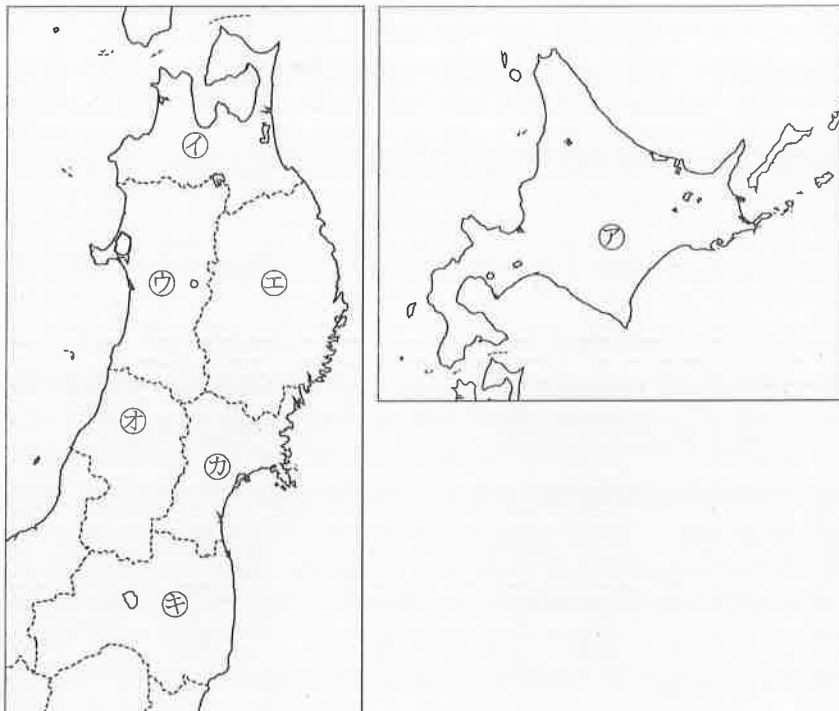
【解答】

| | |
|-----------------------------|-----|
| No.12 北海道地方・東北地方 (都道府県名) | 年 組 |
| | 名前 |

| |
|------|
| /14問 |
|------|

次の地図を見て、㉠～㉥の道県名と道県庁所在地名をそれぞれ書きましょう。

地図



| | 道県名 | 道県庁所在地名 |
|---|-----|---------|
| ㉦ | ① | ② |
| ㉠ | ③ | ④ |
| ㉡ | ⑤ | ⑥ |
| ㉢ | ⑦ | ⑧ |
| ㉣ | ⑨ | ⑩ |
| ㉤ | ⑪ | ⑫ |
| ㉥ | ⑬ | ⑭ |

- ① 北海道
- ② 札幌市
- ③ 青森県
- ④ 青森市
- ⑤ 秋田県
- ⑥ 秋田市
- ⑦ 岩手県
- ⑧ 盛岡市
- ⑨ 山形県
- ⑩ 山形市
- ⑪ 宮城県
- ⑫ 仙台市
- ⑬ 福島県
- ⑭ 福島市

北海道地方・東北地方には、面積の広い都道府県ベスト3があるよ。



【解答】